

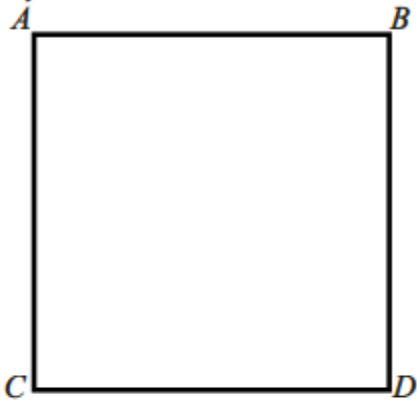
Nombre: ..... Curso: ..... SEMANA: .....

MAXIMO PLAZO DE ENTREGA JUNIO 5  
DESPUES DE ESTA FECHA NO SE RECIBE NINGUN TIPO DE TRABAJO

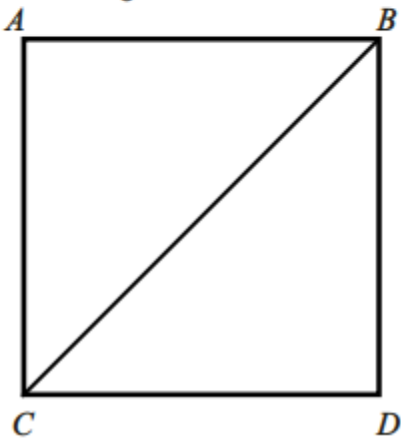
### ELABORACION DEL TANGRAM

#### Actividad 1: Construcción del Tangrama

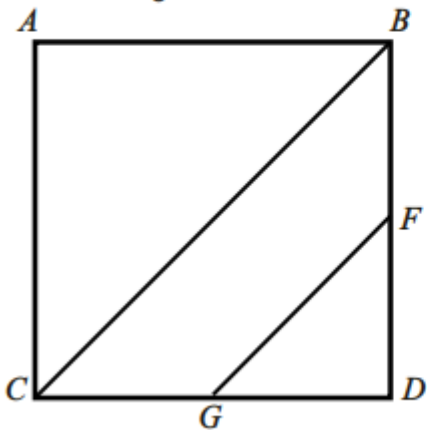
1° Dibuje un cuadrado ABCD de 10cm de lado.



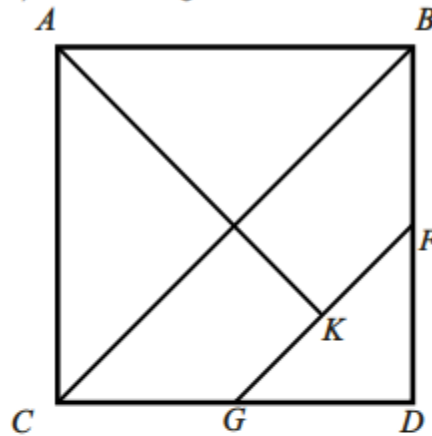
2° Trace la diagonal del cuadrado  $\overline{CB}$



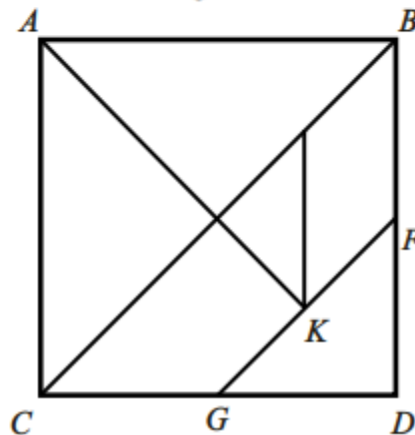
3° Trace la distancia entre los puntos medios de dos lados  $\overline{BD}$   $\overline{CD}$  consecutivos, segmento paralelo a la diagonal trazada:  $\overline{FG}$



4° Trace la otra diagonal del cuadrado (no completa) hasta el segmento  $\overline{FG}$ :  $\overline{AK}$

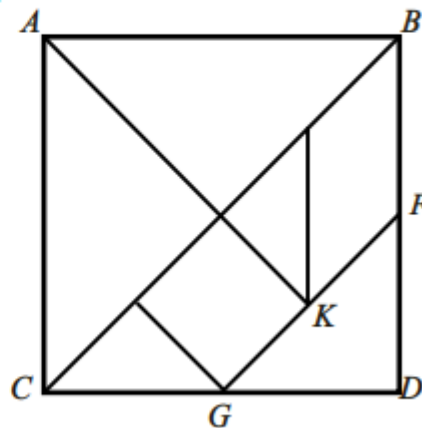


5° Trace el segmento paralelo al lado  $\overline{BD}$ , que va desde la diagonal  $\overline{BC}$  hasta K.



6° Trace el segmento perpendicular a la diagonal  $\overline{CB}$  que inicia en G


6° Trace el segmento perpendicular a la diagonal  $\overline{CB}$  que inicia en G



# CONSTRUCCION DE FIGURAS GEOMETRICAS

## A) ANIMALES

Utilizando las siete piezas del tangram cada vez, construye las siluetas de estos animales que hemos visto en el zoo:




## B) PERSONAS

Utilizando las siete piezas del tangram cada vez, construye las siluetas de estas personas que hemos visto por la calle:



### C) COSAS

Utilizando las siete piezas del tangram cada vez, construye las siluetas de estas figuras:



#### NOTA:

DE LA PUNTUALIDAD, EN LA ENTREGA DEL TALLER, DEL COMPROMISO Y ESFUERZO, COMO LA FORMA DE PRESENTACION DEPENDE LA NOTA DEL SEGUNDO PERIODO

EL DIA 6 DE JUNIO, TRABAJOS QUE SEAN ENTREGADOS NO LOS TENDRE EN CUENTA PARA LA NOTA DEL PERIDO, ESE DIA PASARE NOTAS A LA PLATAFORMA

BERNARDO ANTONIO GUEVARA ORJUELA

[baguevara2020@gmail.com](mailto:baguevara2020@gmail.com)