

TALLER DE HABILIDADES DE PENSAMIENTO
SEMANA # 15 (4 DE MAYO)

1. Elabora un diagrama de barras con la información de la tabla.

Religión	No. de adeptos en millones
Cristianismo	2015
Islamismo	1215
Hinduismo	786
Budismo	362
Ateísmo	211

Tabla 8.4

2. Escoge el diagrama circular que mejor represente un reparto equitativo de las ganancias de una empresa. *Explica.*

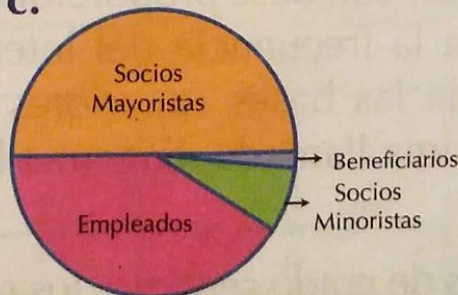
a.



b.



c.



3. El diagrama de barras representa el crecimiento económico mundial en los años 2003 y 2004.

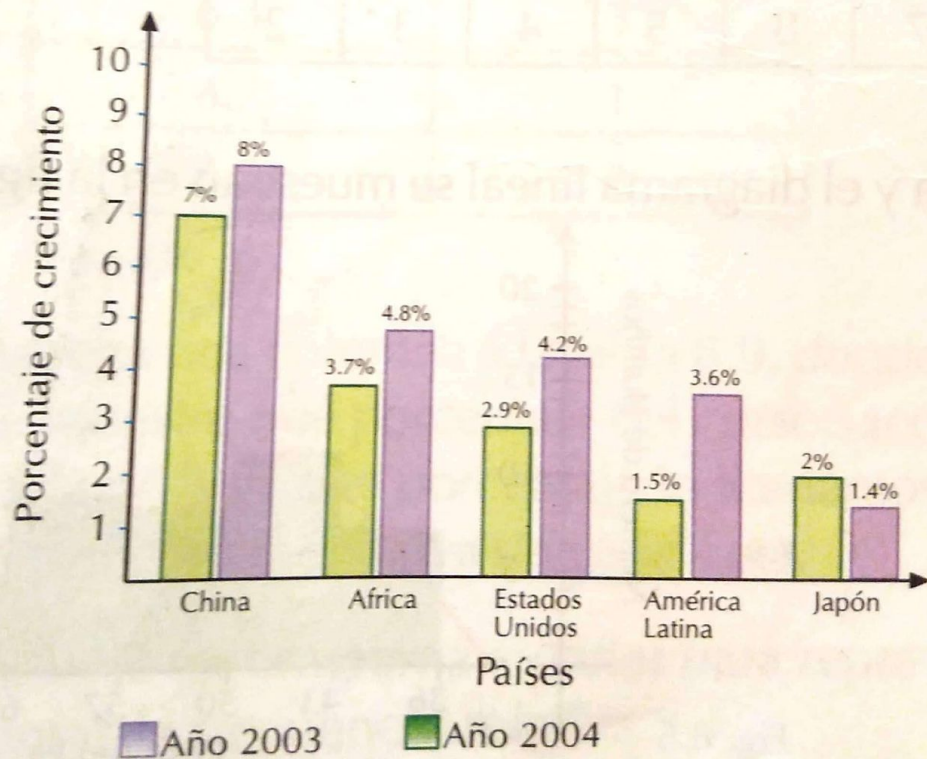


Fig. 8.3
Escaneada con CamScanner

- Elabora una tabla con la información obtenida de la gráfica para el año 2004.
- Analiza cuál región tuvo un mejor resultado económico de un año a otro.
- Determina cuál país tuvo un descenso en el crecimiento económico de un año a otro.

4. En el año 2002, la composición de la atmósfera estaba distribuida como se muestra en la tabla 8.5.

Componente	%
Nitrógeno	78.08
Oxígeno	20.94
Argón	0.93
Dióxido de carbono	0.05

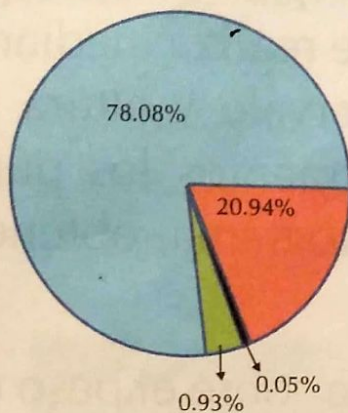
Tabla 8.5

¿Cuál de los siguientes diagramas representa correctamente la información dada?

Escaneado con CamScanner

¿Cuál de los siguientes diagramas representa correctamente la información dada?

a.



b.

