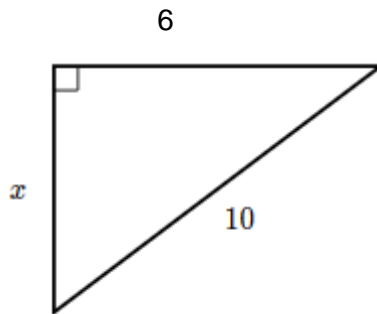


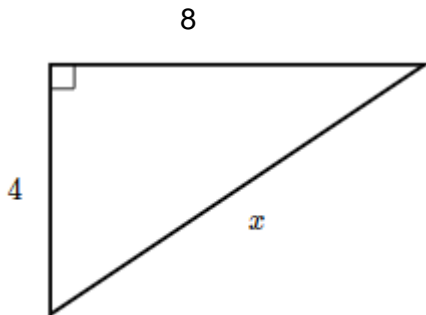
TALLER DE RECUPERACION
GRADO OCTAVO
SEGUNDO PERIODO

1. UTILIZANDO EL TEOREMA DE PITAGORAS, RESOLVER, MOSTRANDO EL PROCEDIMIENTO

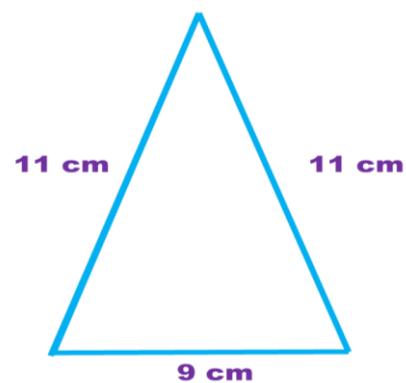
- A. Encuentra el valor de x en el siguiente triángulo.
(Hacer procedimiento)



- B. Encuentra el valor de x en el siguiente triángulo. (Hacer procedimiento)



- C. Encuentra el valor de la altura del siguiente triángulo. (Hacer procedimiento)
(usar teorema de Pitágoras)



- D. ¿Verifique si las longitudes de lados de cada triángulo cumplen con el teorema de Pitágoras?
Justifique

Elige todas las respuestas adecuadas:

- A. 3,4,5
- B. 7,8,9
- C. 6,8,10